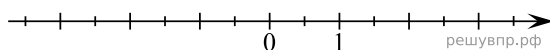
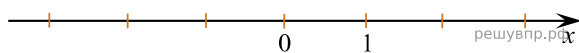


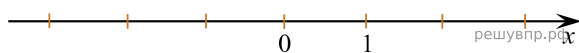
1. Отметьте на числовой прямой точку $A\left(-2\frac{6}{7}\right)$.



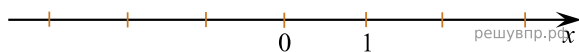
2. Отметьте на числовой прямой точку $A\left(-3\frac{5}{14}\right)$.



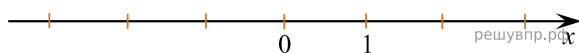
3. Отметьте на числовой прямой точку $C\left(-2\frac{5}{7}\right)$.



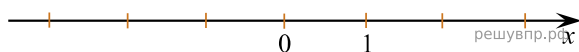
4. Отметьте на числовой прямой точку $A\left(2\frac{3}{13}\right)$.



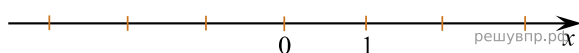
5. Отметьте на числовой прямой точку $B\left(2\frac{13}{15}\right)$.



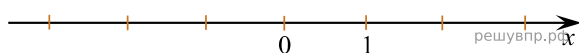
6. Отметьте на числовой прямой точку $C\left(1\frac{11}{12}\right)$.



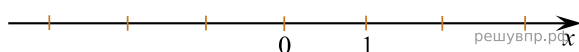
7. Отметьте на числовой прямой точку $A\left(\frac{6}{7}\right)$.



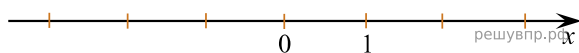
8. Отметьте на числовой прямой точку $B\left(\frac{1}{12}\right)$.



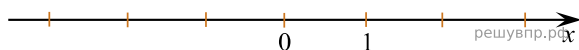
9. Отметьте на числовой прямой точку $A\left(-1\frac{8}{9}\right)$.



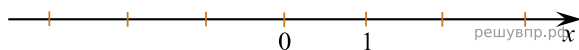
10. Отметьте на числовой прямой точку $B(2,81)$.



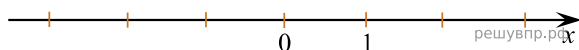
11. Отметьте на числовой прямой точку $A\left(2\frac{7}{18}\right)$.



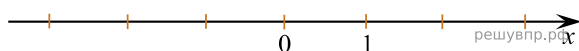
12. Отметьте на числовой прямой точку $A\left(-1\frac{10}{17}\right)$.



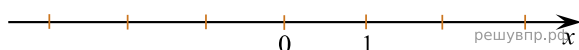
13. Отметьте на числовой прямой точку $C(3, 71)$.



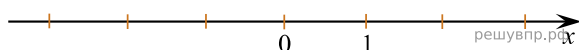
14. Отметьте на числовой прямой точку $A\left(-2\frac{5}{16}\right)$.



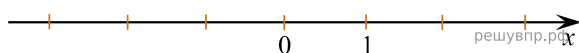
15. Отметьте на числовой прямой точку $C\left(\frac{7}{20}\right)$.



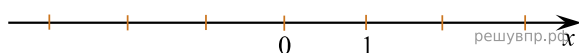
16. Отметьте на числовой прямой точку $B\left(-\frac{11}{14}\right)$.



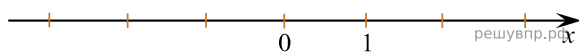
17. Отметьте на числовой прямой точку $A(-0,66)$.



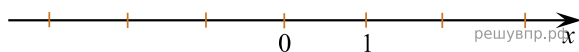
18. Отметьте на числовой прямой точку $C\left(-\frac{1}{7}\right)$.



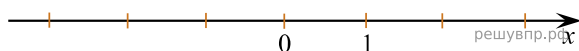
19. Отметьте на числовой прямой точку $A(-0,26)$.



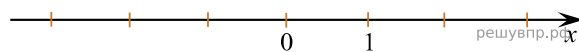
20. Отметьте на числовой прямой точку $B(0,75)$.



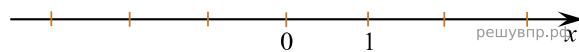
21. Отметьте на числовой прямой точку $C\left(1\frac{14}{19}\right)$.



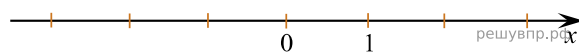
22. Отметьте на числовой прямой точку $A\left(-4\frac{8}{13}\right)$.



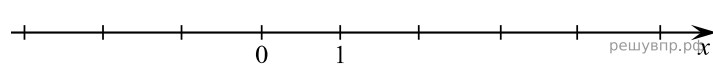
23. Отметьте на числовой прямой точку $A\left(1\frac{13}{15}\right)$.



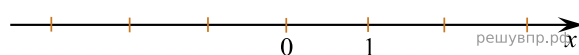
24. Отметьте на числовой прямой точку $A\left(-2\frac{13}{18}\right)$.



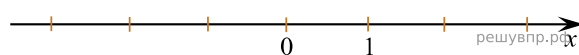
25. Отметьте на числовой прямой точку $A\left(3\frac{3}{14}\right)$.



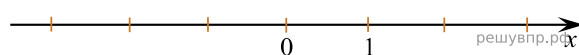
26. Отметьте на числовой прямой точку $A\left(-4\frac{2}{7}\right)$.



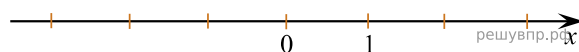
27. Отметьте на числовой прямой точку $A\left(4\frac{1}{9}\right)$.



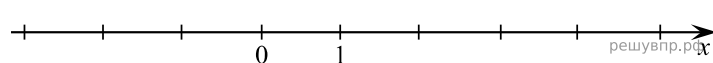
28. Отметьте на числовой прямой точку $A\left(-3\frac{1}{6}\right)$.



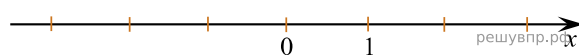
29. Отметьте на числовой прямой точку $A\left(-4\frac{5}{17}\right)$.



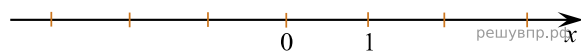
30. Отметьте на числовой прямой точку $A\left(3\frac{3}{14}\right)$.



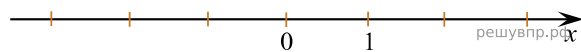
31. Отметьте на числовой прямой точку $A\left(-4\frac{5}{16}\right)$.



32. Отметьте на числовой прямой точку $C\left(1\frac{7}{9}\right)$.



33. Отметьте на числовой прямой точку $B\left(2\frac{11}{16}\right)$.



34. Отметьте на числовой прямой точку $A\left(-3\frac{4}{13}\right)$.

