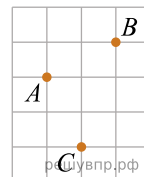


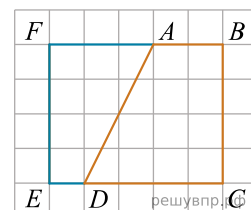
1. На клетчатой бумаге с размером клетки 1×1 отмечены точки A , B и C . Найдите сумму углов ABC и CAB . Ответ дайте в градусах.



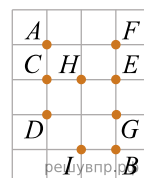
2. На клетчатой бумаге с размером клетки 1×1 отмечены точки A , B и C . Найдите градусную меру угла ABC .



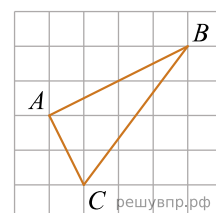
3. На клетчатой бумаге с размером клетки 1×1 нарисованы два четырёхугольника: $ABCD$ и $ADEF$. Найдите разность периметров четырёхугольников $ABCD$ и $ADEF$.



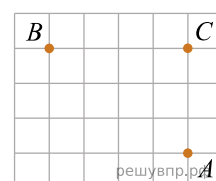
4. На клетчатой бумаге с размером клетки 1×1 отмечено девять точек. Проведите биссектрису угла AFB . Сколько отмеченных точек, отличных от точек A , F и B , лежит на биссектрисе угла AFB ?



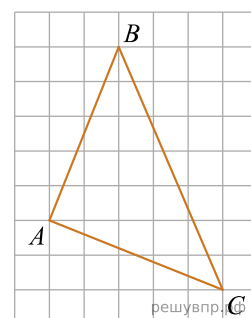
5. На клетчатой бумаге с размером клетки 1×1 нарисован треугольник ABC . Найдите сумму углов ABC и ACB . Ответ дайте в градусах.



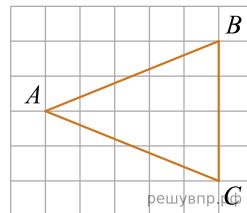
6. На клетчатой бумаге с размером клетки 1×1 отмечены точки A , B и C . Найдите сумму углов ABC и CAB . Ответ дайте в градусах.



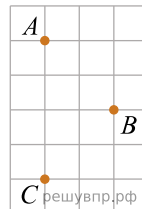
7. На клетчатой бумаге с размером клетки 1×1 нарисован треугольник ABC . Найдите сумму углов ABC и ACB . Ответ дайте в градусах.



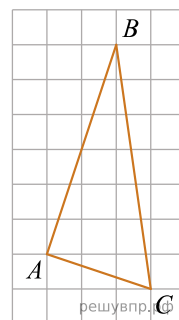
8. На клетчатой бумаге с размером клетки 1×1 нарисован треугольник ABC . Найдите длину биссектрисы треугольника, выходящей из вершины A .



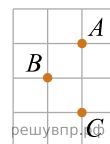
9. На клетчатой бумаге с размером клетки 1×1 отмечены точки A , B и C . Найдите градусную меру угла ABC .



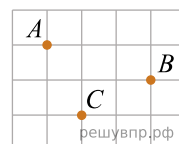
10. На клетчатой бумаге с размером клетки 1×1 нарисован треугольник ABC . Найдите сумму углов ABC и ACB . Ответ дайте в градусах.



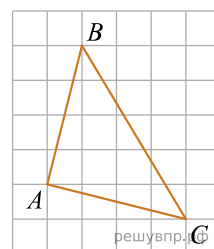
11. На клетчатой бумаге с размером клетки 1×1 отмечены точки A , B и C . Найдите градусную меру угла ABC .



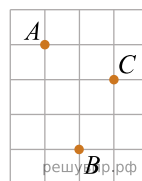
12. На клетчатой бумаге с размером клетки 1×1 отмечены точки A , B и C . Найдите градусную меру угла ABC .



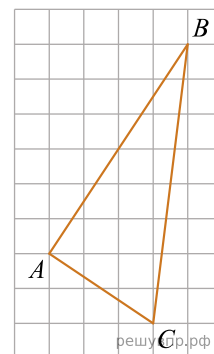
13. На клетчатой бумаге с размером клетки 1×1 нарисован треугольник ABC . Найдите сумму углов ABC и ACB . Ответ дайте в градусах.



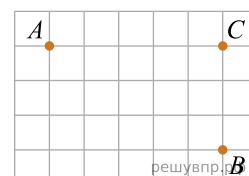
14. На клетчатой бумаге с размером клетки 1×1 отмечены точки A , B и C . Найдите градусную меру угла ABC .



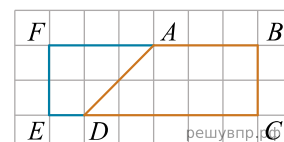
15. На клетчатой бумаге с размером клетки 1×1 нарисован треугольник ABC . Найдите сумму углов ABC и ACB . Ответ дайте в градусах.



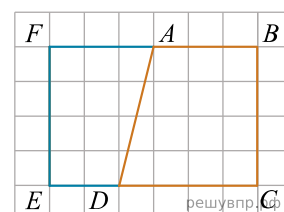
16. На клетчатой бумаге с размером клетки 1×1 отмечены точки A , B и C . Найдите сумму углов ABC и CAB . Ответ дайте в градусах.



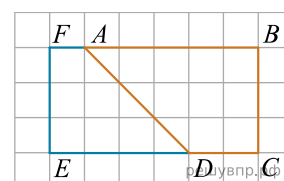
17. На клетчатой бумаге с размером клетки 1×1 нарисованы два четырёхугольника: $ABCD$ и $ADEF$. Найдите разность периметров четырёхугольников $ABCD$ и $ADEF$.



18. На клетчатой бумаге с размером клетки 1×1 нарисованы два четырёхугольника: $ABCD$ и $ADEF$. Найдите разность периметров четырёхугольников $ABCD$ и $ADEF$.



19. На клетчатой бумаге с размером клетки 1×1 нарисованы два четырёхугольника: $ABCD$ и $ADEF$. Найдите разность периметров четырёхугольников $ABCD$ и $ADEF$.



20. На клетчатой бумаге с размером клетки 1×1 отмечены точки A , B и C . Найдите градусную меру угла ABC .

