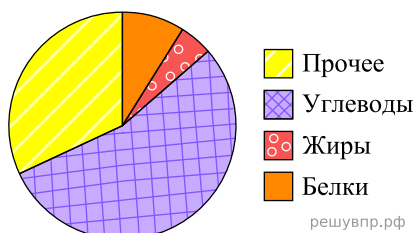


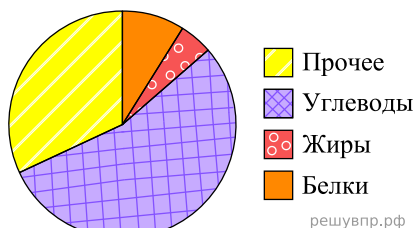
1. На диаграмме показано содержание питательных веществ в сухарях



*к прочему относятся вода, витамины и минеральные вещества.

Определите по диаграмме, сколько примерно граммов углеводов содержится в 100 г сухарей.

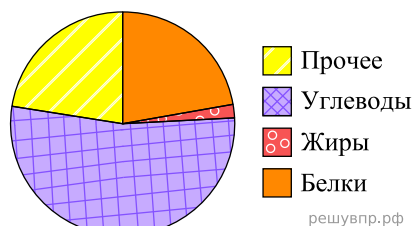
2. На диаграмме показано содержание питательных веществ в сухарях.



*к прочему относятся вода, витамины и минеральные вещества.

Определите по диаграмме, сколько примерно граммов белков содержится в 100 г сухарей.

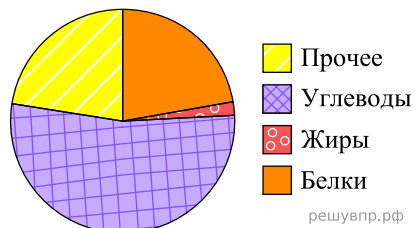
3. На диаграмме показано содержание питательных веществ в фасоли.



*к прочему относятся вода, витамины и минеральные вещества.

Определите по диаграмме, сколько примерно граммов углеводов содержится в 100 г фасоли.

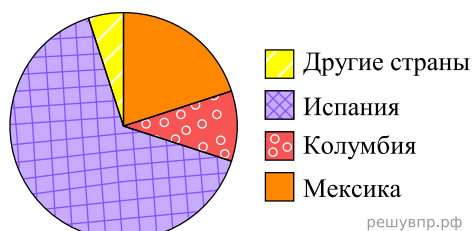
4. На диаграмме показано содержание питательных веществ в фасоли.



*к прочему относятся вода, витамины и минеральные вещества.

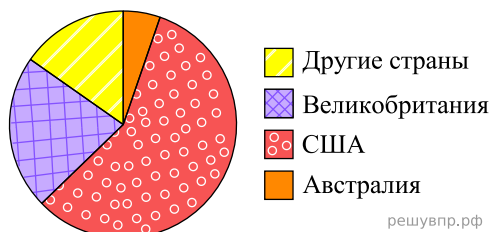
Определите по диаграмме, сколько примерно граммов белков содержится в 100 г фасоли.

5. На диаграмме представлено распределение количества зарегистрированных пользователей не-которого сайта по странам мира. Всего на сайте зарегистрировано 100 тысяч пользователей.



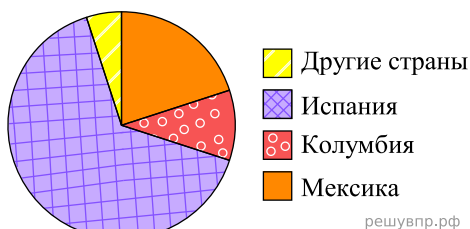
Определите по диаграмме, сколько примерно тысяч жителей Испании зарегистрировано на этом сайте.

6. На диаграмме представлено распределение количества зарегистрированных пользователей не-
которого сайта по странам мира. Всего на сайте зарегистрировано 100 тысяч человек.



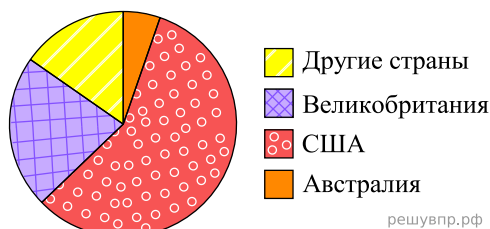
Определите по диаграмме, сколько примерно тысяч жителей Великобритании зарегистрировано на этом сайте.

7. На диаграмме представлено распределение количества зарегистрированных пользователей не-
которого сайта по странам мира. Всего на сайте зарегистрировано 100 тысяч пользователей.



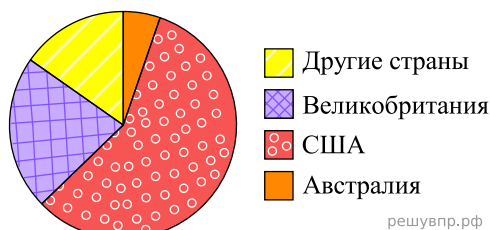
Определите по диаграмме, сколько примерно тысяч жителей Колумбии зарегистрировано на этом сайте.

8. На диаграмме представлено распределение количества зарегистрированных пользователей не-
которого сайта по странам мира. Всего на сайте зарегистрировано 100 тысяч пользователей.



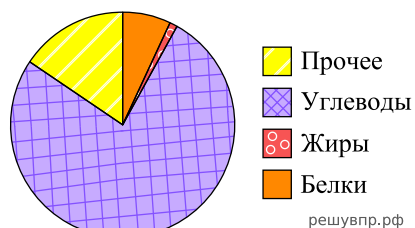
Определите по диаграмме, сколько примерно тысяч жителей США зарегистрировано на этом сайте.

9. На диаграмме представлено распределение количества зарегистрированных пользователей не-
которого сайта по странам мира. Всего на сайте зарегистрировано 100 тысяч пользователей.



Определите по диаграмме, сколько примерно тысяч жителей Австралии зарегистрировано на этом сайте.

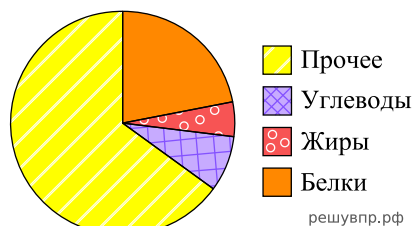
10. На диаграмме показано содержание питательных веществ в рисе.



**к прочему относятся вода, витамины и минеральные вещества.*

Определите по диаграмме, сколько примерно граммов углеводов содержится в 100 г риса.

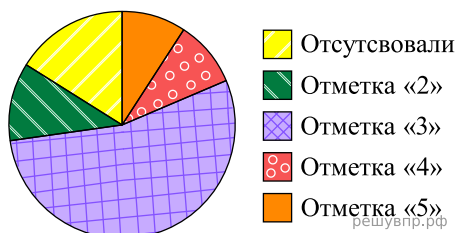
11. На диаграмме показано содержание питательных веществ в сушёных белых грибах.



**к прочему относятся вода, витамины и минеральные вещества.*

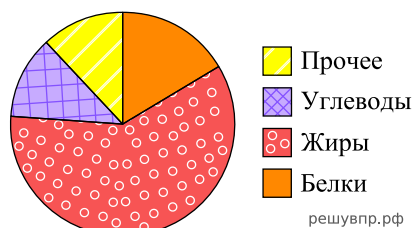
Определите по диаграмме, сколько примерно граммов жиров содержится в 100 г сушёных белых грибов.

12. Завуч подвёл итоги контрольной работы по математике в девятых классах. Результаты представлены на диаграмме.



Определите по диаграмме, сколько примерно учеников отсутствовало на контрольной, если всего в школе 100 девятиклассников.

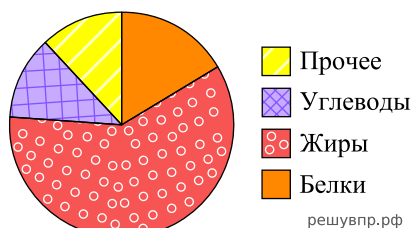
13. На диаграмме показано содержание питательных веществ в грецких орехах.



**к прочему относятся вода, витамины и минеральные вещества.*

Определите по диаграмме, сколько примерно граммов жиров содержится в 100 г грецких орехов.

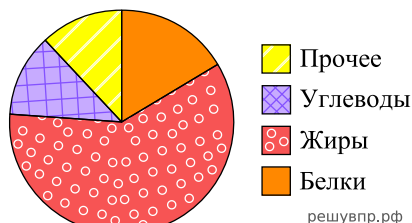
14. На диаграмме показано содержание питательных веществ в грецких орехах.



*к прочему относятся вода, витамины и минеральные вещества.

Определите по диаграмме, сколько примерно граммов углеводов содержится в 100 г грецких орехов.

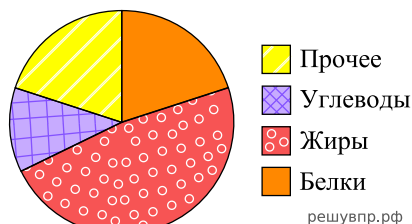
15. На диаграмме показано содержание питательных веществ в грецких орехах.



*к прочему относятся вода, витамины и минеральные вещества.

Определите по диаграмме, сколько примерно граммов белков содержится в 100 г грецких орехов.

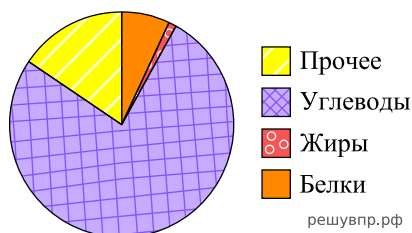
16. На диаграмме показано содержание питательных веществ в семенах кунжута.



*к прочему относятся вода, витамины и минеральные вещества.

Определите по диаграмме, сколько примерно граммов белков содержится в 100 г семян кунжута.

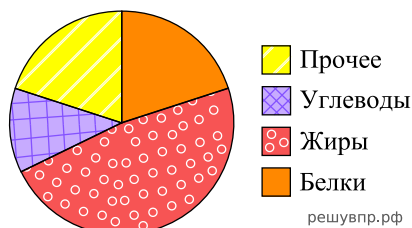
17. На диаграмме показано содержание питательных веществ в рисе.



*к прочему относятся вода, витамины и минеральные вещества.

Определите по диаграмме, сколько примерно граммов белков содержится в 100 г риса.

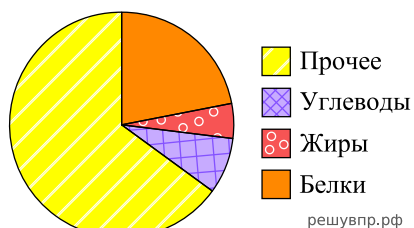
18. На диаграмме показано содержание питательных веществ в семенах кунжута.



*к прочему относятся вода, витамины и минеральные вещества.

Определите по диаграмме, сколько примерно граммов углеводов содержится в 100 г семян кунжута.

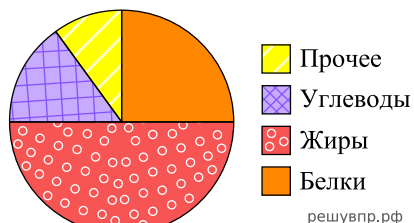
19. На диаграмме показано содержание питательных веществ в сушёных белых грибах.



*к прочему относятся вода, витамины и минеральные вещества.

Определите по диаграмме, сколько примерно граммов углеводов содержится в 100 г сушёных белых грибов.

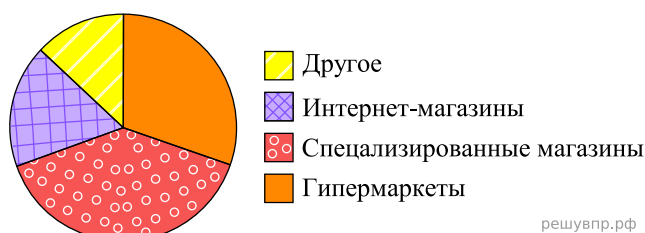
20. На диаграмме показано содержание питательных веществ в тыквенных семечках.



*к прочему относятся вода, витамины и минеральные вещества.

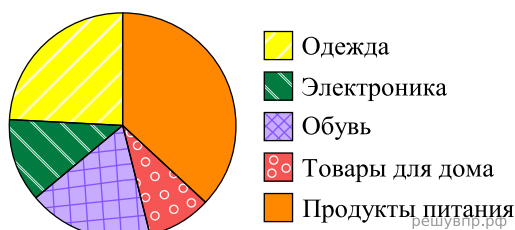
Определите по диаграмме, сколько примерно граммов углеводов содержится в 100 г тыквенных семечек.

21. На диаграмме представлена информация о распределении продаж бытовой техники по разным типам торговых предприятий за последний год в некотором городе. Всего за указанный период было продано 400 000 единиц бытовой техники.



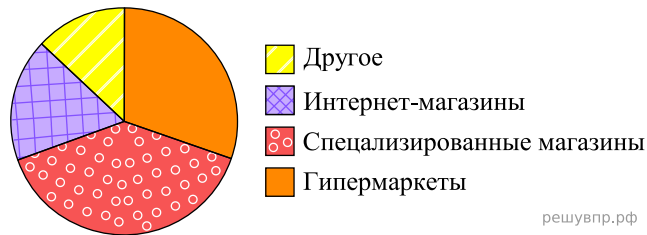
Определите по диаграмме, сколько примерно единиц бытовой техники было продано в специализированных магазинах.

22. На диаграмме представлена информация о покупках, сделанных в интернет-магазинах некоторого города в выходные дни. Всего за выходные было совершено 40 000 покупок.



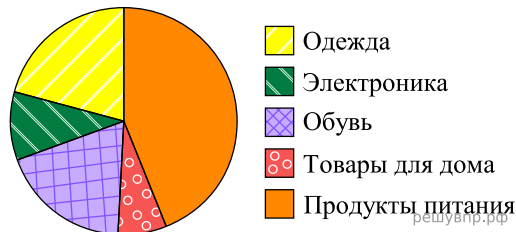
Определите по диаграмме, сколько примерно покупок относится к категории «Одежда».

23. На диаграмме представлена информация о распределении продаж бытовой техники по разным типам торговых предприятий за последний год в некотором городе. Всего за указанный период было продано 200 000 единиц бытовой техники.



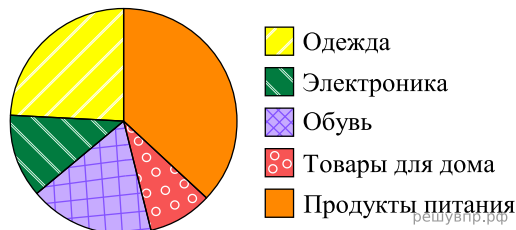
Определите по диаграмме, сколько примерно единиц бытовой техники было продано в гипермаркетах.

24. На диаграмме представлена информация о покупках, сделанных в интернет-магазинах некоторого города в выходные дни. Всего за выходные было совершено 50 000 покупок.



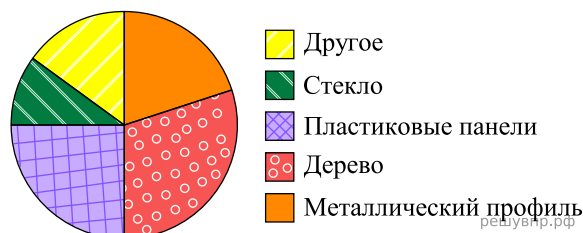
Определите по диаграмме, сколько примерно покупок относится к категории «Обувь».

25. На диаграмме представлена информация о покупках, сделанных в интернет-магазинах некоторого города в выходные дни. Всего за выходные было совершено 50 000 покупок.



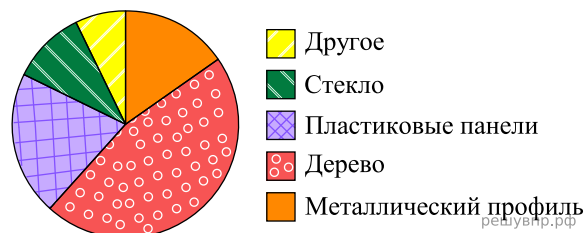
Определите по диаграмме, сколько примерно покупок относится к категории «Электроника».

26. На диаграмме представлена информация о затратах мебельной фабрики на приобретение дерева, стекла, металлического профиля, пластиковых панелей и других расходных материалов. Всего было потрачено 2 000 000 рублей.



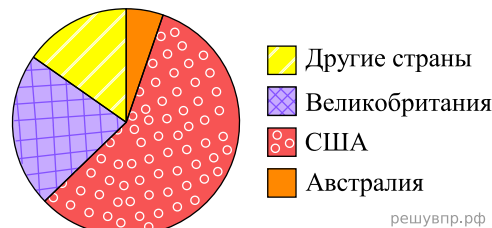
Определите по диаграмме, сколько примерно рублей было потрачено на дерево.

27. На диаграмме представлена информация о затратах мебельной фабрики на приобретение дерева, стекла, металлического профиля, пластиковых панелей и других расходных материалов. Всего было потрачено 5 000 000 рублей.



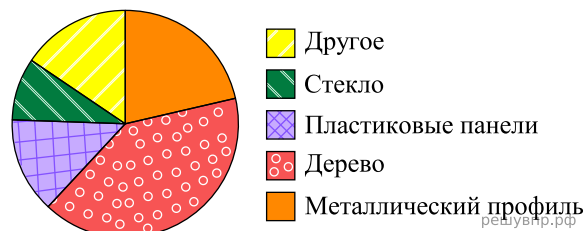
Определите по диаграмме, сколько примерно рублей было потрачено на стекло.

28. На диаграмме представлено распределение количества зарегистрированных пользователей некоторого сайта по странам мира. Всего на сайте зарегистрировано 300 тысяч человек.



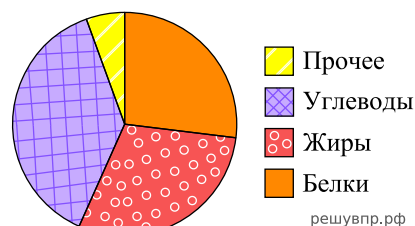
Определите по диаграмме, сколько примерно жителей Великобритании зарегистрировано на этом сайте.

29. На диаграмме представлена информация о затратах мебельной фабрики на приобретение дерева, стекла, металлического профиля, пластиковых панелей и других расходных материалов. Всего было потрачено 3 000 000 рублей.



Определите по диаграмме, сколько примерно рублей было потрачено на стекло.

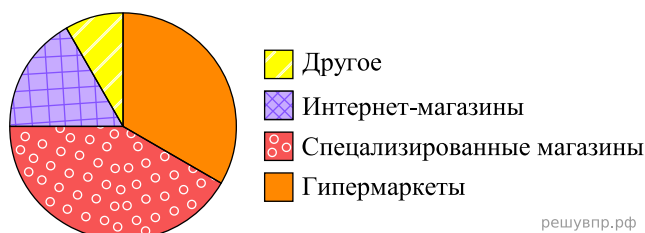
30. На диаграмме показано содержание питательных веществ в арахисовых козинаках.



*К прочему относятся вода, витамины и минеральные вещества.

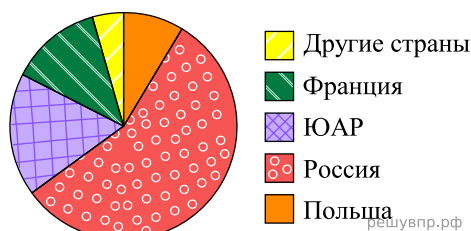
Определите по диаграмме, сколько примерно граммов жиров содержится в 100 г арахисовых козинаков.

31. На диаграмме представлена информация о распределении продаж бытовой техники по разным типам торговых предприятий за последний год в некотором городе. Всего за указанный период было продано 100 000 единиц бытовой техники.



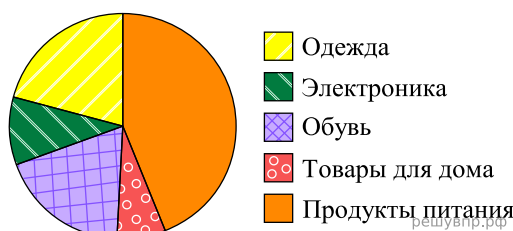
Определите по диаграмме, сколько примерно единиц бытовой техники было продано в гипермаркетах.

32. На диаграмме представлено распределение количества участников музыкального фестиваля по странам мира. Всего в фестивале приняли участие 100 человек.



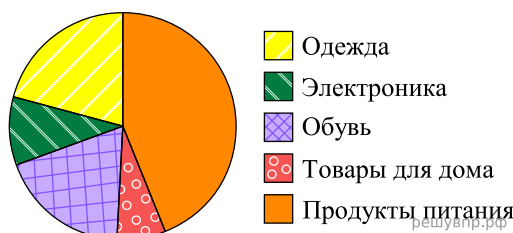
Определите по диаграмме, сколько примерно участников фестиваля было из Польши.

33. На диаграмме представлена информация о покупках, сделанных в интернет-магазинах некоторого города в выходные дни. Всего за выходные было совершено 80 000 покупок.



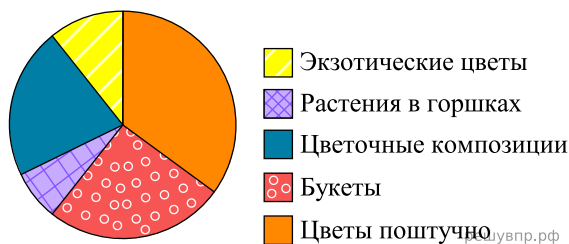
Определите по диаграмме, сколько примерно покупок относится к категории «Электроника».

34. На диаграмме представлена информация о покупках, сделанных в интернет-магазинах некоторого города в выходные дни. Всего за выходные было совершено 30 000 покупок.



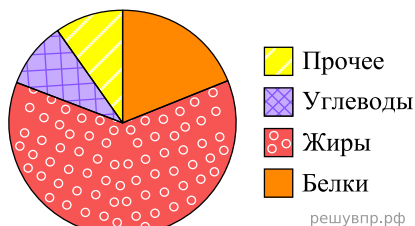
Определите по диаграмме, сколько примерно покупок относится к категории «Одежда».

35. На диаграмме представлена информация о товарах, проданных за месяц в цветочном магазине. Всего за месяц в магазине было продано 8000 единиц товара.



Определите по диаграмме, сколько примерно было продано растений в горшках.

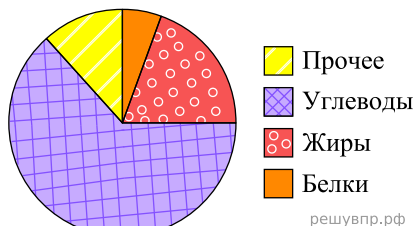
36. На диаграмме показано содержание питательных веществ в ядрах фундука.



*К прочему относятся вода, витамины и минеральные вещества.

Определите по диаграмме, сколько примерно граммов жиров содержится в 100 г ядер фундука.

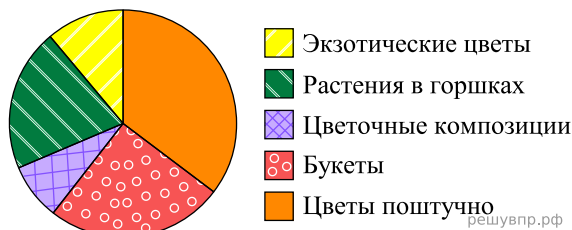
37. На диаграмме показано содержание питательных веществ в марципане.



*к прочему относятся вода, витамины и минеральные вещества.

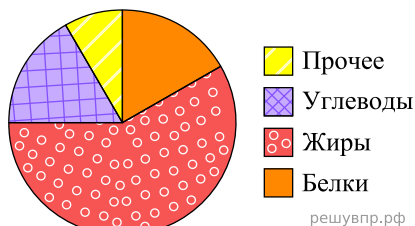
Определите по диаграмме, сколько примерно граммов углеводов содержится в марципане массой 50 г.

38. На диаграмме представлена информация о товарах, проданных за месяц в цветочном магазине. Всего за месяц в магазине было продано 3000 единиц товара.



Определите по диаграмме, сколько примерно было продано цветов поштучно.

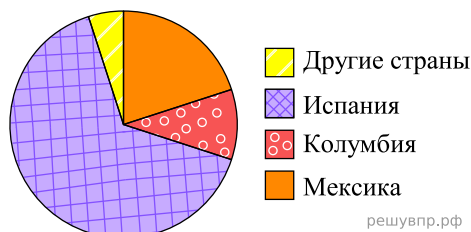
39. На диаграмме показано содержание питательных веществ в ядрах миндаля.



*К прочему относятся вода, витамины и минеральные вещества.

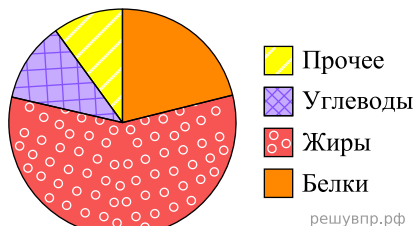
Определите по диаграмме, сколько примерно граммов белков содержится в 100 г ядер миндаля.

40. На диаграмме представлено распределение количества зарегистрированных пользователей некоего сайта по странам мира. Всего на сайте зарегистрировано 100 тысяч пользователей.



Определите по диаграмме, сколько примерно жителей Мексики зарегистрировано на этом сайте.

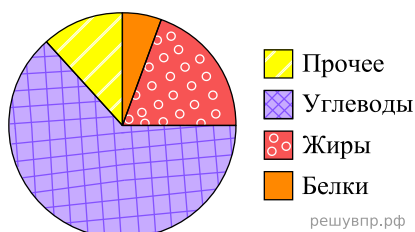
41. На диаграмме показано содержание питательных веществ в ядрах абрикосовых косточек.



**К прочему относятся вода, витамины и минеральные вещества.*

Определите по диаграмме, сколько примерно граммов жиров содержится в 100 г ядер абрикосовых косточек.

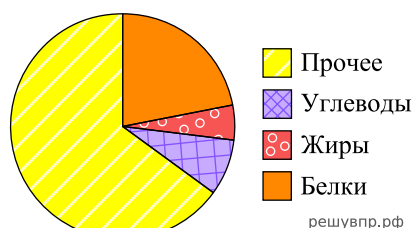
42. На диаграмме показано содержание питательных веществ в марципане.



**К прочему относятся вода, витамины и минеральные вещества.*

Определите по диаграмме, сколько примерно граммов углеводов содержится в 100 г марципана.

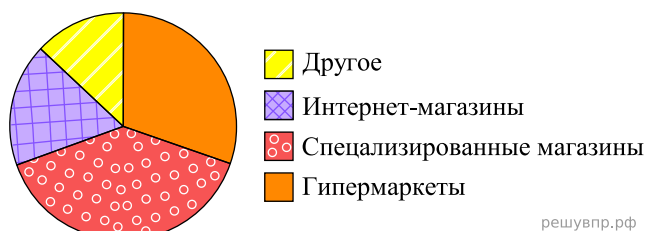
43. На диаграмме показано содержание питательных веществ в сушёных белых грибах.



**к прочему относятся вода, витамины и минеральные вещества.*

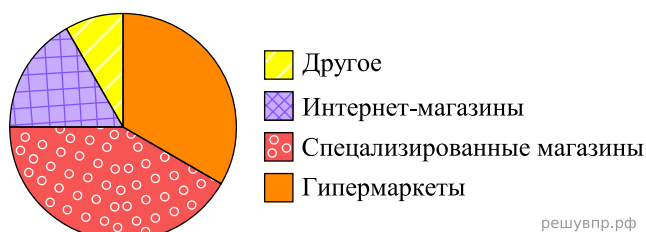
Определите по диаграмме, сколько примерно граммов белков содержится в 100 г сушёных белых грибов.

44. На диаграмме представлена информация о распределении продаж бытовой техники по разным типам торговых предприятий за последний год в некотором городе. Всего за указанный период было продано 100 000 единиц бытовой техники.



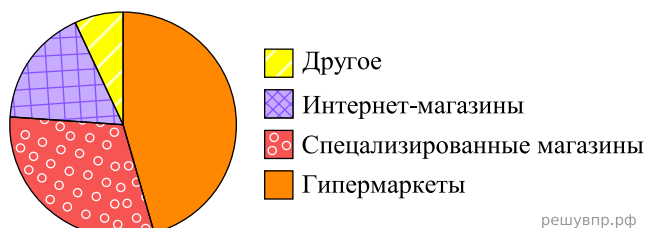
Определите по диаграмме, сколько примерно единиц бытовой техники было продано в гипермаркетах.

45. На диаграмме представлена информация о распределении продаж бытовой техники по разным типам торговых предприятий за последний год в некотором городе. Всего за указанный период было продано 300 000 единиц бытовой техники.



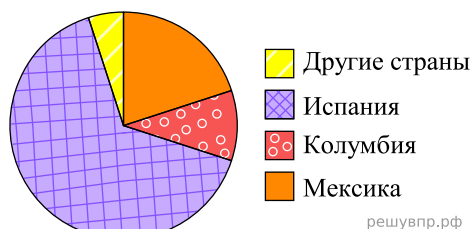
Определите по диаграмме, сколько примерно единиц бытовой техники было продано в специализированных магазинах.

46. На диаграмме представлена информация о распределении продаж бытовой техники по разным типам торговых предприятий за последний год в некотором городе. Всего за указанный период было продано 50 000 единиц бытовой техники.



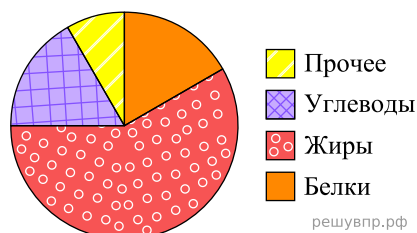
Определите по диаграмме, сколько примерно единиц бытовой техники было продано в интернет-магазинах.

47. На диаграмме представлено распределение количества зарегистрированных пользователей некоторого сайта по странам мира. Всего на сайте зарегистрировано 200 тысяч пользователей.



Определите по диаграмме, сколько примерно жителей Испании зарегистрировано на этом сайте.

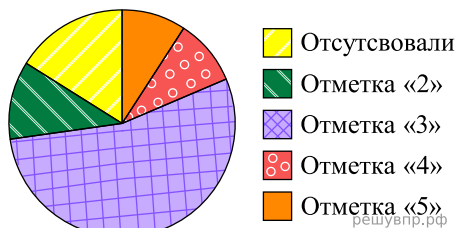
48. На диаграмме показано содержание питательных веществ в ядрах миндаля.



*К прочему относятся вода, витамины и минеральные вещества.

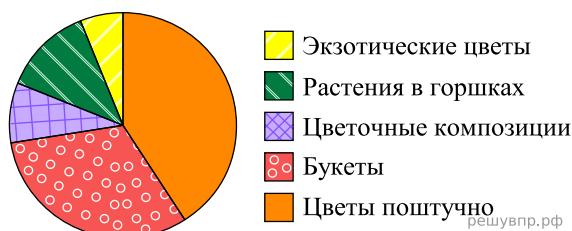
Определите по диаграмме, сколько примерно граммов жиров содержится в 100 г ядер миндаля.

49. Завуч подвёл итоги контрольной работы по математике в девятых классах. Результаты представлены на диаграмме.



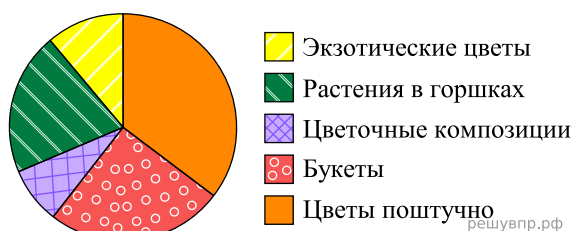
Определите по диаграмме, сколько примерно учеников получили отметку «3» по итогам контрольной работы, если всего в школе 100 девятиклассников.

50. На диаграмме представлена информация о товарах, проданных за месяц в цветочном магазине. Всего за месяц в магазине было продано 3000 единиц товара.



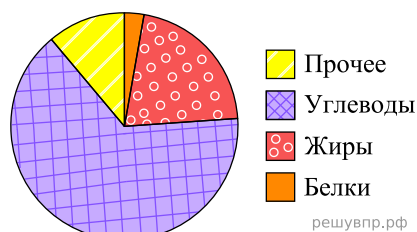
Определите по диаграмме, сколько примерно было продано букетов.

51. На диаграмме представлена информация о товарах, проданных за месяц в цветочном магазине. Всего за месяц в магазине было продано 2000 единиц товара.



Определите по диаграмме, сколько примерно было продано букетов.

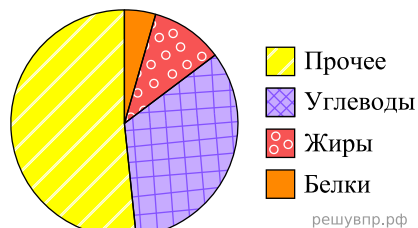
52. На диаграмме показано содержание питательных веществ в кокосовых цукатах.



* К прочему относятся вода, витамины и минеральные вещества.

Определите по диаграмме, сколько примерно граммов жиров содержится в 100 г кокосовых цукатов.

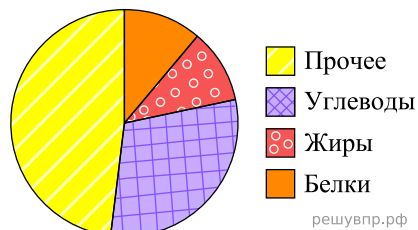
53. На диаграмме показано содержание питательных веществ в пирожках с капустой.



* К прочему относятся вода, витамины и минеральные вещества.

Определите по диаграмме, сколько примерно граммов жиров содержится в двух пирожках с капустой, масса каждого из которых равна 100 г.

54. На диаграмме показано содержание питательных веществ в пирожках с мясом.



*К прочему относятся вода, витамины и минеральные вещества.

Определите по диаграмме, сколько примерно граммов белков содержится в одном пирожке с мясом, масса которого 100 г.