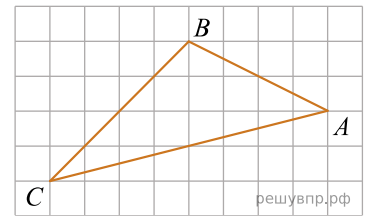
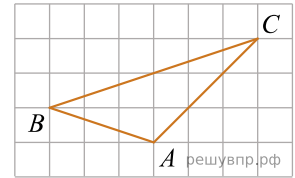


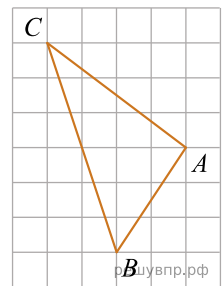
1. На клетчатой бумаге с размером клетки 1×1 нарисован треугольник ABC . Найдите медиану AM треугольника ABC .



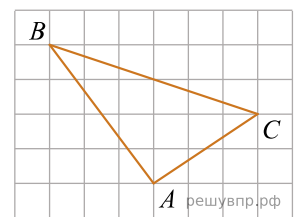
2. На клетчатой бумаге с размером клетки 1×1 нарисован треугольник ABC . Найдите медиану AM треугольника ABC .



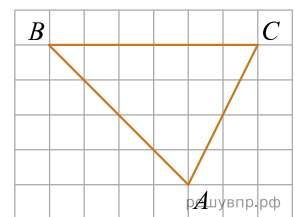
3. На клетчатой бумаге с размером клетки 1×1 нарисован треугольник ABC . Найдите медиану AM треугольника ABC .



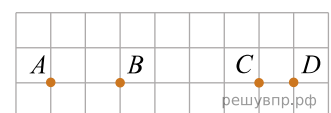
4. На клетчатой бумаге с размером клетки 1×1 нарисован треугольник ABC . Найдите медиану AM треугольника ABC .



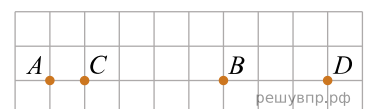
5. На клетчатой бумаге с размером клетки 1×1 нарисован треугольник ABC . Отрезок AM — медиана данного треугольника. Найдите длину отрезка BM .



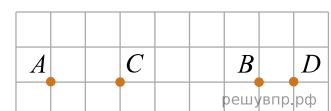
6. На клетчатой бумаге с размером клетки 1×1 отмечены точки A, B, C и D . Найдите расстояние между серединами отрезков AD и BC .



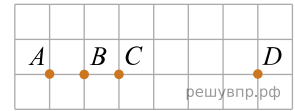
7. На клетчатой бумаге с размером клетки 1×1 отмечены точки A, B, C и D . Найдите расстояние между серединами отрезков AB и CD .



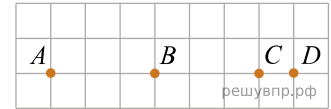
8. На клетчатой бумаге с размером клетки 1×1 отмечены точки A, B, C и D . Найдите расстояние между серединами отрезков AB и CD .



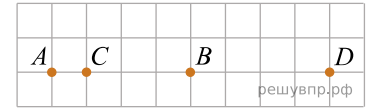
9. На клетчатой бумаге с размером клетки 1×1 отмечены точки A, B, C и D . Найдите расстояние между серединами отрезков AD и BC .



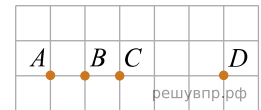
10. На клетчатой бумаге с размером клетки 1×1 отмечены точки A, B, C и D . Найдите расстояние между серединами отрезков AD и BC .



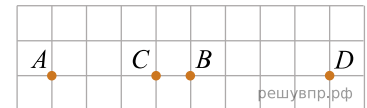
11. На клетчатой бумаге с размером клетки 1×1 отмечены точки A, B, C и D . Найдите расстояние между серединами отрезков AB и CD .



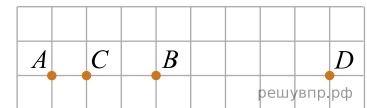
12. На клетчатой бумаге с размером клетки 1×1 отмечены точки A, B, C и D . Найдите расстояние между серединами отрезков AD и BC .



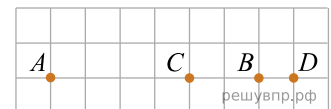
13. На клетчатой бумаге с размером клетки 1×1 отмечены точки A, B, C и D . Найдите расстояние между серединами отрезков AB и CD .



14. На клетчатой бумаге с размером клетки 1×1 отмечены точки A, B, C и D . Найдите расстояние между серединами отрезков AB и CD .



15. На клетчатой бумаге с размером клетки 1×1 отмечены точки A, B, C и D . Найдите расстояние между серединами отрезков AB и CD .



16. На клетчатой бумаге с размером клетки 1×1 отмечены точки A, B, C и D . Найдите расстояние между серединами отрезков AD и BC .

