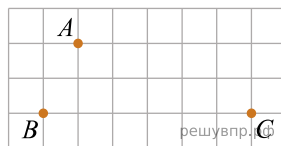
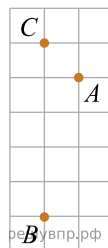


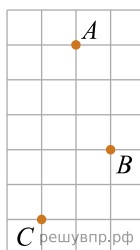
1. На клетчатой бумаге с размером клетки 1 см x 1 см отмечены точки  $A$ ,  $B$  и  $C$ . Найдите расстояние от точки  $A$  до прямой  $BC$ . Ответ выразите в сантиметрах.



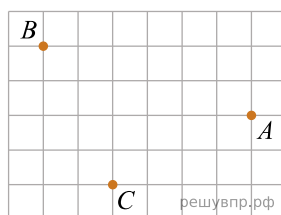
2. На клетчатой бумаге с размером клетки 1 см x 1 см отмечены точки  $A$ ,  $B$  и  $C$ . Найдите расстояние от точки  $A$  до прямой  $BC$ . Ответ выразите в сантиметрах.



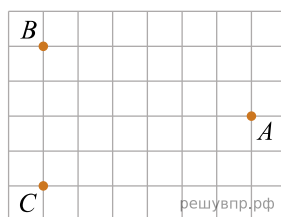
3. На клетчатой бумаге с размером клетки 1 см x 1 см отмечены точки  $A$ ,  $B$  и  $C$ . Найдите расстояние от точки  $A$  до середины отрезка  $BC$ . Ответ выразите в сантиметрах. *В ответ впишите только число.*



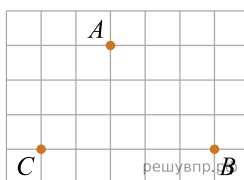
4. На клетчатой бумаге с размером клетки 1 см x 1 см отмечены точки  $A$ ,  $B$  и  $C$ . Найдите расстояние от точки  $A$  до середины отрезка  $BC$ . Ответ выразите в сантиметрах.



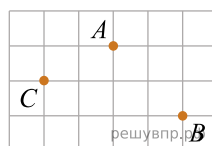
5. На клетчатой бумаге с размером клетки 1 см x 1 см отмечены точки  $A$ ,  $B$  и  $C$ . Найдите расстояние от точки  $A$  до середины отрезка  $BC$ . Ответ выразите в сантиметрах.




6. На клетчатой бумаге с размером клетки 1 см x 1 см отмечены точки  $A$ ,  $B$  и  $C$ . Найдите расстояние от точки  $A$  до прямой  $BC$ . Ответ выразите в сантиметрах.



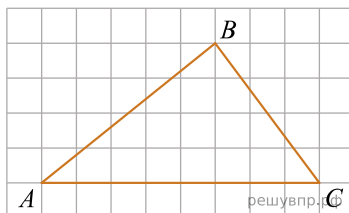
7. На клетчатой бумаге с размером клетки 1 см x 1 см отмечены точки  $A$ ,  $B$  и  $C$ . Найдите расстояние от точки  $A$  до середины отрезка  $BC$ . Ответ выразите в сантиметрах.



8. На клетчатой бумаге с размером клетки  $1\text{ см} \times 1\text{ см}$  отмечены точки  $A$ ,  $B$  и  $C$ . Найдите расстояние от точки  $A$  до середины отрезка  $BC$ . Ответ выразите в сантиметрах.

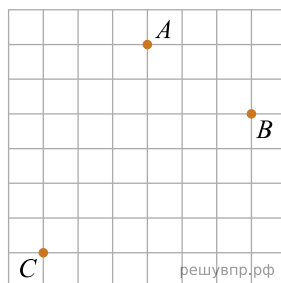


9. На клетчатой бумаге с размером клетки  $1 \times 1$  изображён треугольник  $ABC$ . Найдите длину его высоты, опущенной на сторону  $AC$ .

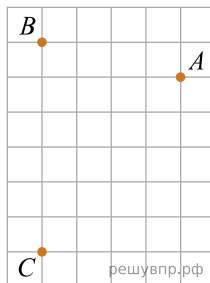


10. Из точки  $A(2, 2)$  опущен перпендикуляр на ось абсцисс. Найдите абсциссу основания перпендикуляра.

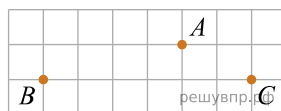
11. На клетчатой бумаге с размером клетки  $1\text{ см} \times 1\text{ см}$  отмечены точки  $A$ ,  $B$  и  $C$ . Найдите расстояние от точки  $A$  до середины отрезка  $BC$ . Ответ выразите в сантиметрах.



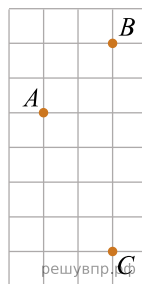
12. На клетчатой бумаге с размером клетки  $1 \times 1$  отмечены три точки:  $A$ ,  $B$  и  $C$ . Найдите расстояние от точки  $A$  до прямой  $BC$ .



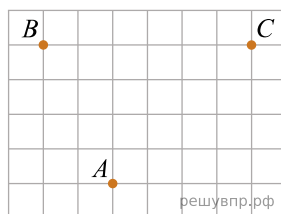
13. На клетчатой бумаге с размером клетки  $1\text{ см} \times 1\text{ см}$  отмечены точки  $A$ ,  $B$  и  $C$ . Найдите расстояние от точки  $A$  до прямой  $BC$ . Ответ выразите в сантиметрах.



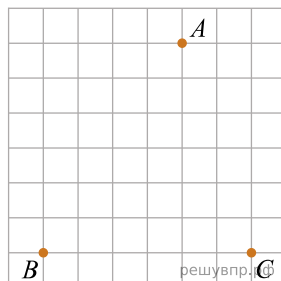
14. На клетчатой бумаге с размером клетки  $1\text{ см} \times 1\text{ см}$  отмечены точки  $A$ ,  $B$  и  $C$ . Найдите расстояние от точки  $A$  до прямой  $BC$ . Ответ выразите в сантиметрах.




15. На клетчатой бумаге с размером клетки 1 см x 1 см отмечены точки  $A$ ,  $B$  и  $C$ . Найдите расстояние от точки  $A$  до прямой  $BC$ . Ответ выразите в сантиметрах.



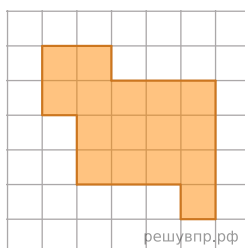
16. На клетчатой бумаге с размером клетки 1 см x 1 см отмечены точки  $A$ ,  $B$  и  $C$ . Найдите расстояние от точки  $A$  до прямой  $BC$ . Ответ выразите в сантиметрах.



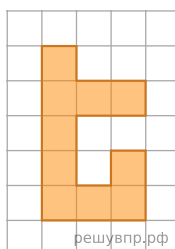
17. На клетчатой бумаге с размером клетки 1 см x 1 см отмечены точки  $A$ ,  $B$  и  $C$ . Найдите расстояние от точки  $A$  до прямой  $BC$ . Ответ выразите в сантиметрах.



18. На клетчатой бумаге с размером клетки 1 x 1 изображена фигура. Найдите её площадь.



19. На клетчатой бумаге с размером клетки 1 x 1 изображена фигура. Найдите её площадь.

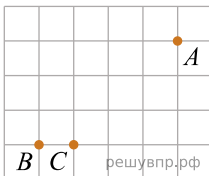


20. Из точки  $A(4, -2)$  опущен перпендикуляр на ось абсцисс. Найдите абсциссу основания перпендикуляра.

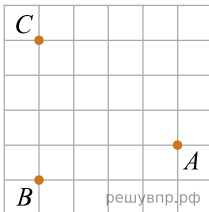
21. Из точки  $A(1, -1)$  опущен перпендикуляр на ось ординат. Найдите ординату основания перпендикуляра.

22. Из точки  $A(2, -2)$  опущен перпендикуляр на ось ординат. Найдите ординату основания перпендикуляра.

23. На клетчатой бумаге с размером клетки  $1 \times 1$  отмечены точки  $A$ ,  $B$  и  $C$ . Найдите расстояние от точки  $A$  до прямой  $BC$ .



24. На клетчатой бумаге с размером клетки  $1 \times 1$  отмечены точки  $A$ ,  $B$  и  $C$ . Найдите расстояние от точки  $A$  до прямой  $BC$ .



25. На клетчатой бумаге с размером клетки  $1 \times 1$  отмечены три точки:  $A$ ,  $B$  и  $C$ . Найдите расстояние от точки  $A$  до прямой  $BC$ .

