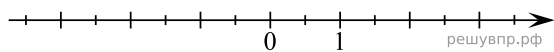
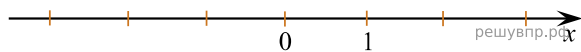


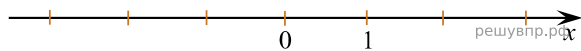
1. Отметьте на числовой прямой точку  $A\left(-2\frac{6}{7}\right)$ .



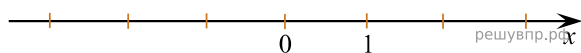
2. Отметьте на числовой прямой точку  $A\left(-3\frac{5}{14}\right)$ .



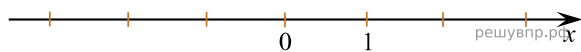
3. Отметьте на числовой прямой точку  $C\left(-2\frac{5}{7}\right)$ .



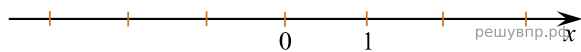
4. Отметьте на числовой прямой точку  $A\left(2\frac{3}{13}\right)$ .



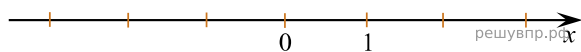
5. Отметьте на числовой прямой точку  $B\left(2\frac{13}{15}\right)$ .



6. Отметьте на числовой прямой точку  $C\left(1\frac{11}{12}\right)$ .



7. Отметьте на числовой прямой точку  $A\left(\frac{6}{7}\right)$ .



8. Отметьте на числовой прямой точку  $B\left(\frac{1}{12}\right)$ .



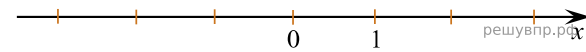
9. Отметьте на числовой прямой точку  $A\left(-1\frac{8}{9}\right)$ .



10. Отметьте на числовой прямой точку  $B(2, 81)$ .



11. Отметьте на числовой прямой точку  $A\left(2\frac{7}{18}\right)$ .



12. Отметьте на числовой прямой точку  $A\left(-1\frac{10}{17}\right)$ .



13. Отметьте на числовой прямой точку  $C(3, 71)$ .



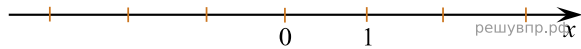
14. Отметьте на числовой прямой точку  $A\left(-2\frac{5}{16}\right)$ .



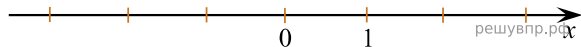
15. Отметьте на числовой прямой точку  $C\left(\frac{7}{20}\right)$ .



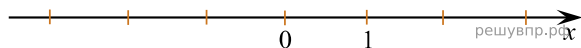
16. Отметьте на числовой прямой точку  $B\left(-\frac{11}{14}\right)$ .



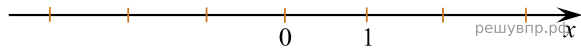
17. Отметьте на числовой прямой точку  $A(-0,66)$ .



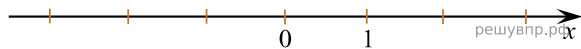
18. Отметьте на числовой прямой точку  $C\left(-\frac{1}{7}\right)$ .



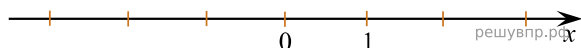
19. Отметьте на числовой прямой точку  $A(-0,26)$ .



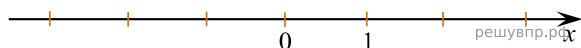
20. Отметьте на числовой прямой точку  $B(0,75)$ .



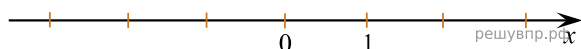
21. Отметьте на числовой прямой точку  $C\left(1\frac{14}{19}\right)$ .



22. Отметьте на числовой прямой точку  $A\left(-4\frac{8}{13}\right)$ .



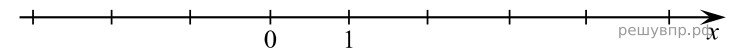
23. Отметьте на числовой прямой точку  $A\left(1\frac{13}{15}\right)$ .



24. Отметьте на числовой прямой точку  $A\left(-2\frac{13}{18}\right)$ .



25. Отметьте на числовой прямой точку  $A\left(3\frac{3}{14}\right)$ .



26. Отметьте на числовой прямой точку  $A\left(-4\frac{2}{7}\right)$ .



27. Отметьте на числовой прямой точку  $A\left(4\frac{1}{9}\right)$ .



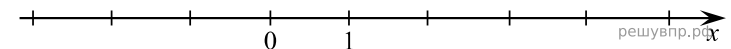
28. Отметьте на числовой прямой точку  $A\left(-3\frac{1}{6}\right)$ .



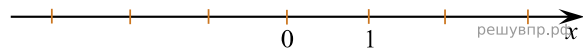
29. Отметьте на числовой прямой точку  $A\left(-4\frac{5}{17}\right)$ .



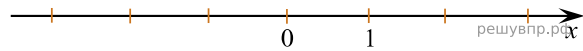
30. Отметьте на числовой прямой точку  $A\left(3\frac{3}{14}\right)$ .



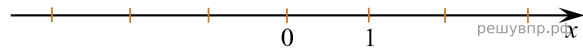
31. Отметьте на числовой прямой точку  $A\left(-4\frac{5}{16}\right)$ .



32. Отметьте на числовой прямой точку  $C\left(1\frac{7}{9}\right)$ .



33. Отметьте на числовой прямой точку  $B\left(2\frac{11}{16}\right)$ .



34. Отметьте на числовой прямой точку  $A\left(-3\frac{4}{13}\right)$ .

