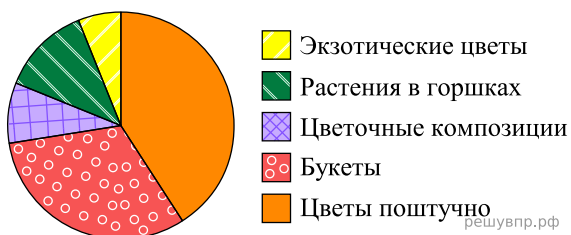
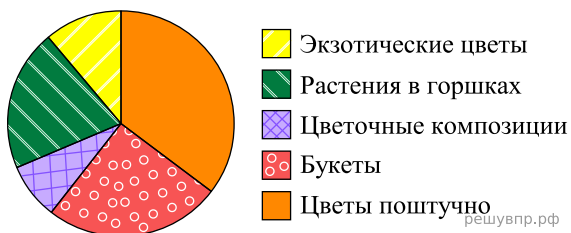


1. На диаграмме представлена информация о товарах, проданных за месяц в цветочном магазине. Всего за месяц в магазине было продано 3000 единиц товара.



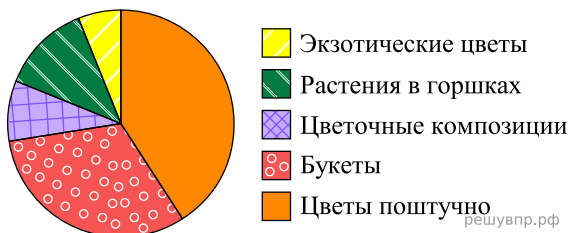
Определите по диаграмме, сколько примерно было продано букетов.

2. На диаграмме представлена информация о товарах, проданных за месяц в цветочном магазине. Всего за месяц в магазине было продано 2000 единиц товара.



Определите по диаграмме, сколько примерно было продано букетов.

3. На диаграмме представлена информация о товарах, проданных за месяц в цветочном магазине. Всего за месяц в магазине было продано 2000 единиц товара.



Определите по диаграмме, сколько примерно было продано растений в горшках.