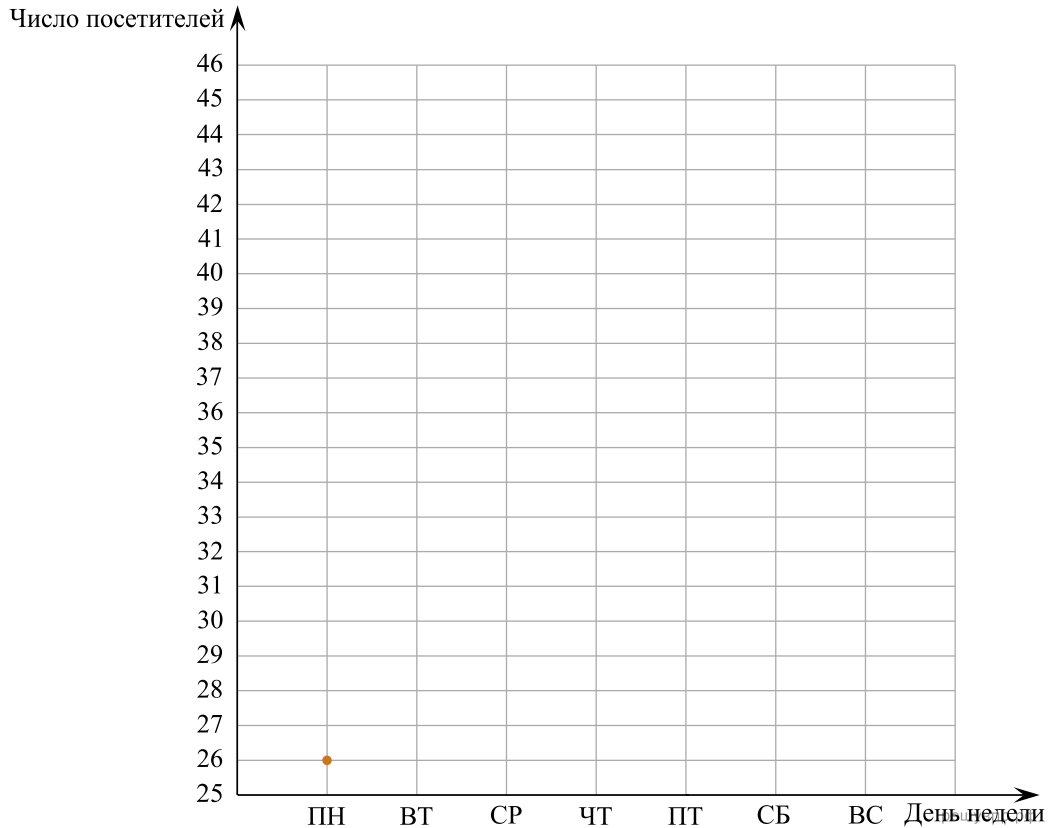


1. Прочтите текст.

В понедельник парикмахерскую посетило 26 человек, причём это была самая низкая посещаемость за неделю. Во вторник посетителей было на 4 человека больше. В среду в этой парикмахерской действовал льготный тариф для пенсионеров, поэтому число посетителей было в полтора раза больше, чем во вторник. В четверг пришло на 5 человек меньше, чем в среду. А в пятницу число посетителей было на 10% меньше, чем в четверг. В субботу пришло на 5 человек больше, чем в пятницу, а в воскресенье — на 3 человека больше, чем в субботу.

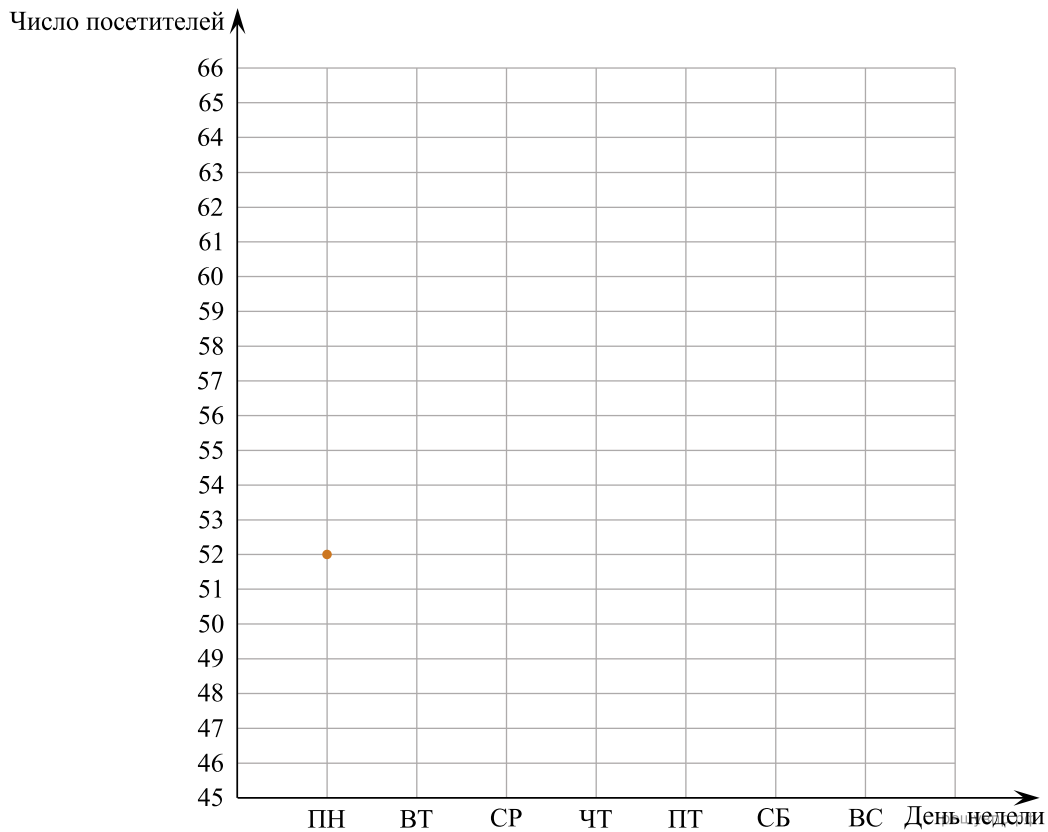
По описанию постройте график зависимости числа посетителей парикмахерской от дня недели. Соседние точки соедините отрезками. Точка, показывающая число посетителей в понедельник, уже отмечена на рисунке.



2. Прочтите текст.

В понедельник парикмахерскую посетило 52 человека. Во вторник пришло на 5 человек меньше, и это была самая низкая посещаемость за неделю. В среду в этой парикмахерской делают скидки пенсионерам, поэтому посетителей было на 17 человек больше, чем во вторник, и это была самая высокая посещаемость за неделю. В четверг число посетителей было на 25% меньше, чем в среду. А в пятницу пришло столько же людей, сколько было в понедельник. В выходные количество клиентов всегда увеличивается. В субботу парикмахерскую посетило на 7 человек больше, чем в пятницу, а в воскресенье — на 4 человека больше, чем в субботу.

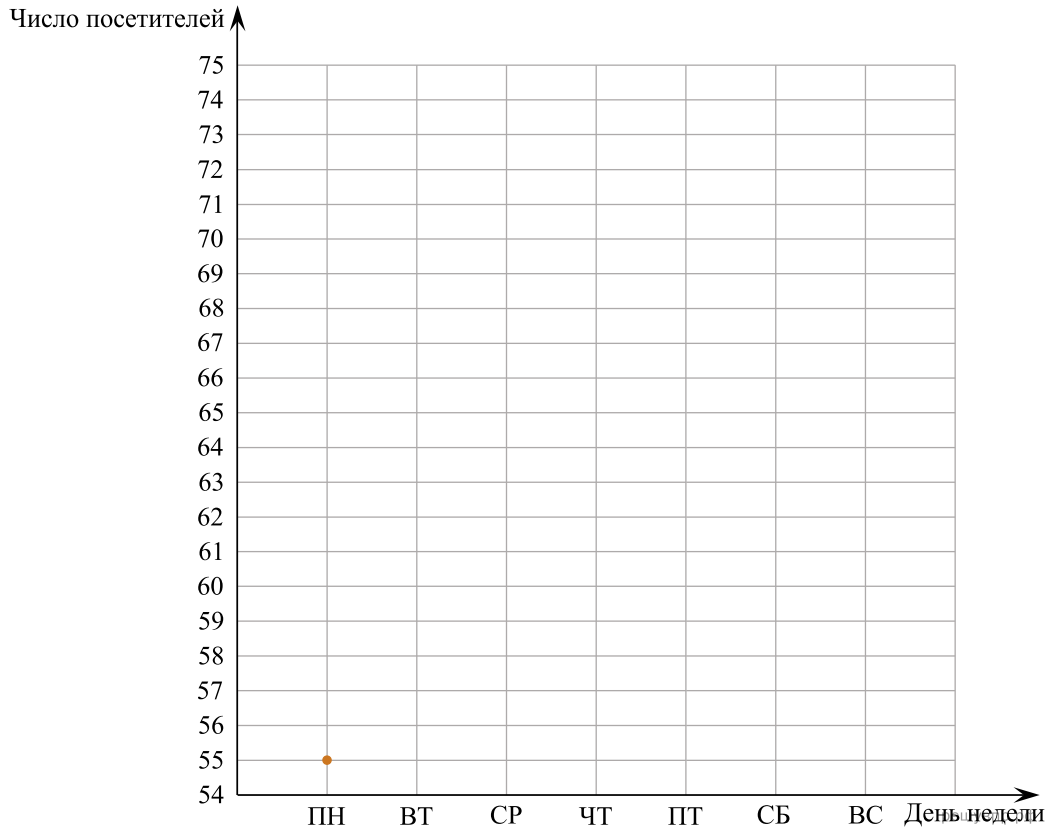
По описанию постройте график зависимости числа посетителей парикмахерской от дня недели. Соседние точки соедините отрезками. Точка, показывающая число посетителей в понедельник, уже отмечена на рисунке.



**3. Прочитайте текст.**

В понедельник парикмахерскую посетило 55 человек. А во вторник — на 5 человек больше. В среду в этой парикмахерской делают скидки пенсионерам, поэтому число посетителей было на 25% больше, чем во вторник, и это была самая высокая посещаемость за неделю. В четверг посетителей было на 9 человек меньше, чем в среду. А в пятницу пришло столько же людей, сколько было во вторник. В выходные количество клиентов всегда увеличивается. В субботу парикмахерскую посетило на 10 человек больше, чем в пятницу, а в воскресенье — на 3 человека больше, чем в субботу.

По описанию постройте график зависимости числа посетителей парикмахерской от дня недели. Соседние точки соедините отрезками. Точка, показывающая число посетителей в понедельник, уже отмечена на рисунке.



4. Прочтите текст.

В понедельник парикмахерскую посетило 40 человек. А во вторник число посетителей было на 20% меньше, и это была самая низкая посещаемость за неделю. В среду в этой парикмахерской делают скидки пенсионерам, поэтому число посетителей было в полтора раза больше, чем во вторник. В четверг посетителей было на 5 человек меньше, чем в среду. А в пятницу — на 2 человека больше, чем в четверг. В выходные количество клиентов всегда увеличивается. В субботу парикмахерскую посетило на 4 человека больше, чем в пятницу, а в воскресенье — на 3 человека больше, чем в субботу, и это была самая высокая посещаемость за неделю.

По описанию постройте график зависимости числа посетителей парикмахерской от дня недели. Соседние точки соедините отрезками. Точка, показывающая число посетителей в понедельник, уже отмечена на рисунке.

