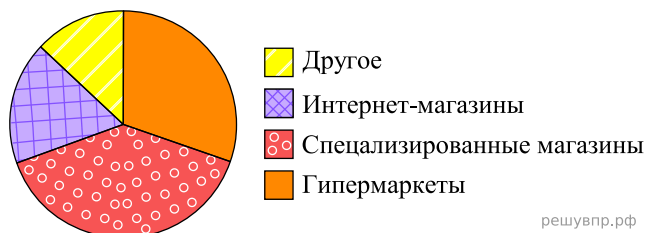
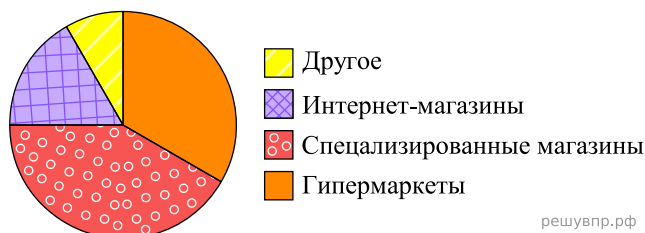


1. На диаграмме представлена информация о распределении продаж бытовой техники по разным типам торговых предприятий за последний год в некотором городе. Всего за указанный период было продано 200 000 единиц бытовой техники.



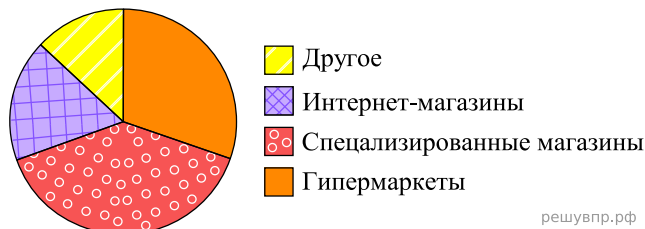
Определите по диаграмме, сколько примерно единиц бытовой техники было продано в гипермаркетах.

2. На диаграмме представлена информация о распределении продаж бытовой техники по разным типам торговых предприятий за последний год в некотором городе. Всего за указанный период было продано 100 000 единиц бытовой техники.




Определите по диаграмме, сколько примерно единиц бытовой техники было продано в гипермаркетах.

3. На диаграмме представлена информация о распределении продаж бытовой техники по разным типам торговых предприятий за последний год в некотором городе. Всего за указанный период было продано 100 000 единиц бытовой техники.



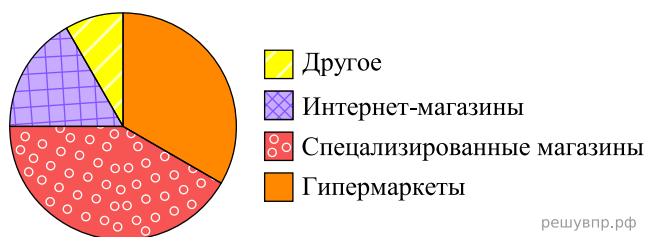
Определите по диаграмме, сколько примерно единиц бытовой техники было продано в гипермаркетах.

4. На диаграмме представлена информация о распределении продаж бытовой техники по разным типам торговых предприятий за последний год в некотором городе. Всего за указанный период было продано 200 000 единиц бытовой техники.



Определите по диаграмме, сколько примерно единиц бытовой техники было продано в специализированных магазинах.

5. На диаграмме представлена информация о распределении продаж бытовой техники по разным типам торговых предприятий за последний год в некотором городе. Всего за указанный период было продано 200 000 единиц бытовой техники.



Определите по диаграмме, сколько примерно единиц бытовой техники было продано в интернет-магазинах.