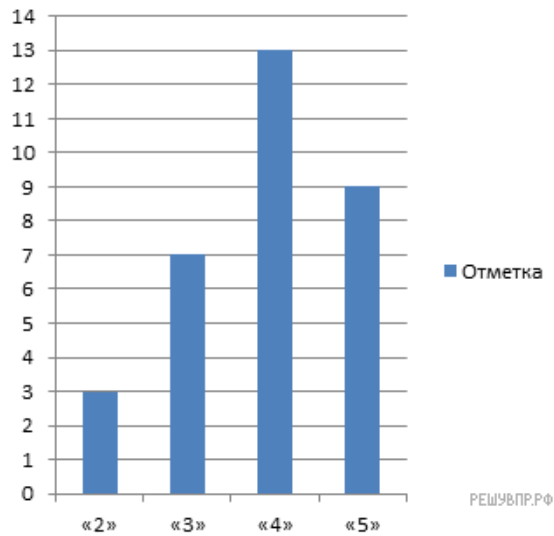
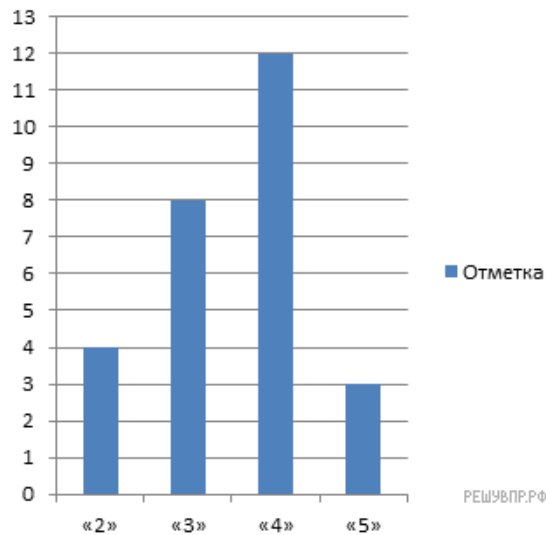


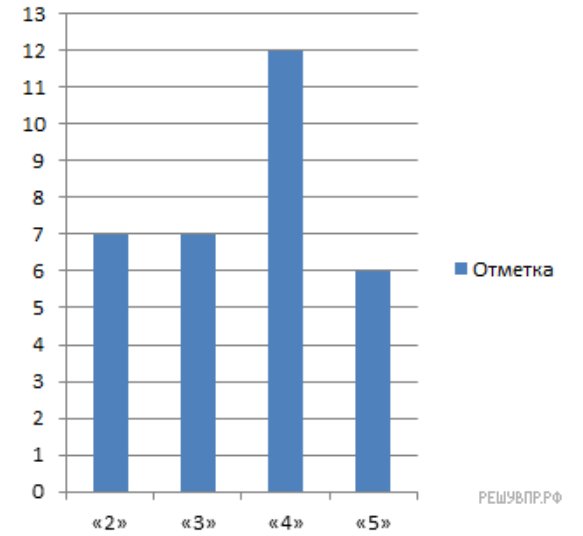
1. На диаграмме показаны результаты проверочной работы, проведенной в 6 «А» классе. По вертикальной оси указано число учеников. Назовите средний балл по классу за эту проверочную работу.



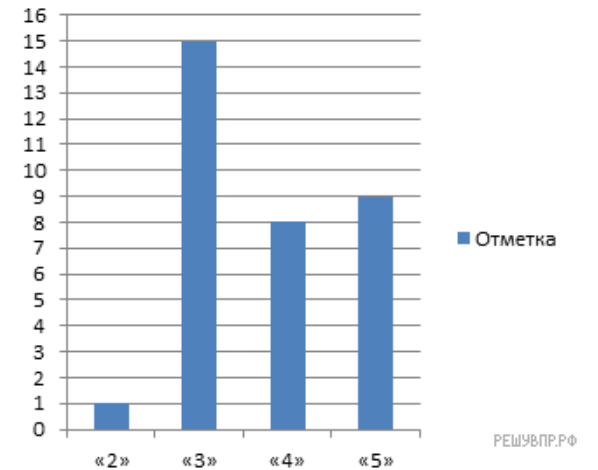
2. На диаграмме показаны результаты проверочной работы, проведенной в 6 «Б» классе. По вертикальной оси указано число учеников. Назовите средний балл тех, кто получил за эту работу оценку выше «3».



3. На диаграмме показаны результаты проверочной работы, проведенной в 6 «В» классе. По вертикальной оси указано число учеников. Назовите средний балл тех, кто получил за эту работу оценку ниже «4».



4. На диаграмме показаны результаты проверочной работы, проведенной в 6 «В» классе. По вертикальной оси указано число учеников. Сколько человек получило оценку не ниже «4»?



5. На диаграмме показаны результаты проверочной работы, проведенной в 6 «Г» классе. По вертикальной оси указано число учеников. Сколько человек получило оценку не выше «3»?

