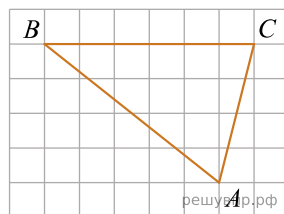
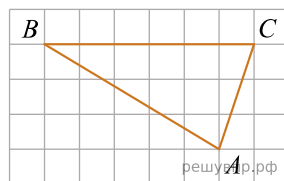


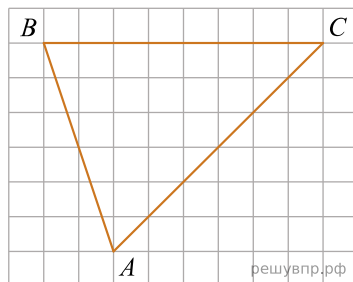
1. На клетчатой бумаге с размером клетки 1×1 нарисован треугольник ABC . Найдите высоту, проведённую из вершины A к стороне BC .



2. На клетчатой бумаге с размером клетки 1×1 нарисован треугольник ABC . Найдите высоту, проведённую из вершины A к стороне BC .



3. На клетчатой бумаге с размером клетки 1×1 нарисован треугольник ABC . Найдите высоту, проведённую из вершины A к стороне BC .



4. На клетчатой бумаге с размером клетки 1×1 нарисован треугольник ABC . Найдите высоту, проведённую из вершины A к стороне BC .

