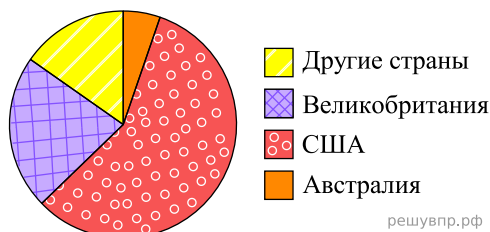
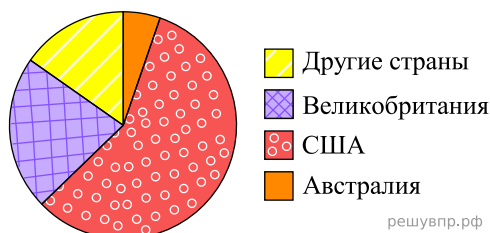


1. На диаграмме представлено распределение количества зарегистрированных пользователей некоторого сайта по странам мира. Всего на сайте зарегистрировано 100 тысяч человек.



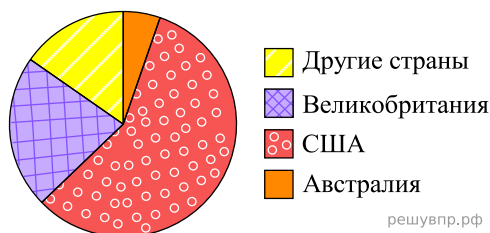
Определите по диаграмме, сколько примерно тысяч жителей Великобритании зарегистрировано на этом сайте.

2. На диаграмме представлено распределение количества зарегистрированных пользователей некоторого сайта по странам мира. Всего на сайте зарегистрировано 300 тысяч человек.



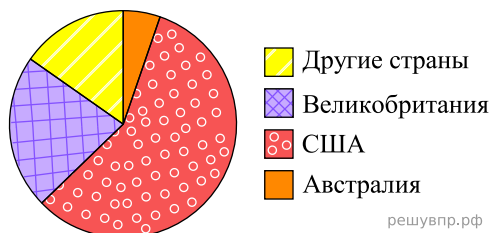
Определите по диаграмме, сколько примерно жителей Великобритании зарегистрировано на этом сайте.

3. На диаграмме представлено распределение количества зарегистрированных пользователей некоторого сайта по странам мира. Всего на сайте зарегистрировано 100 тысяч человек.



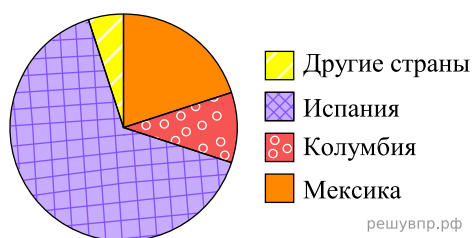
Определите по диаграмме, сколько примерно жителей Австралии зарегистрировано на этом сайте.

4. На диаграмме представлено распределение количества зарегистрированных пользователей некоторого сайта по странам мира. Всего на сайте зарегистрировано 200 тысяч человек.



Определите по диаграмме, сколько примерно жителей Великобритании зарегистрировано на этом сайте.

5. На диаграмме представлено распределение количества зарегистрированных пользователей не-которого сайта по странам мира. Всего на сайте зарегистрировано 200 тысяч пользователей.



Определите по диаграмме, сколько примерно жителей Мексики зарегистрировано на этом сайте.